

Всероссийская игра по логике и математике «Грибное лукошко»

1 → Строение гриба.

1 П

2 Ш

4 Н

3 К

6 К

5 Г

А) шляпка

Г) грибница

Б) ножка

Д) кольцо

В) пластинки

Е) клубень

Ответ: 1- ,2- ,3- ,4- ,5- ,6- .

2 → Слово рассыпалось. Найди место для каждой буквы. Прочитай, какое слово получилось.

Ы

Г

Б

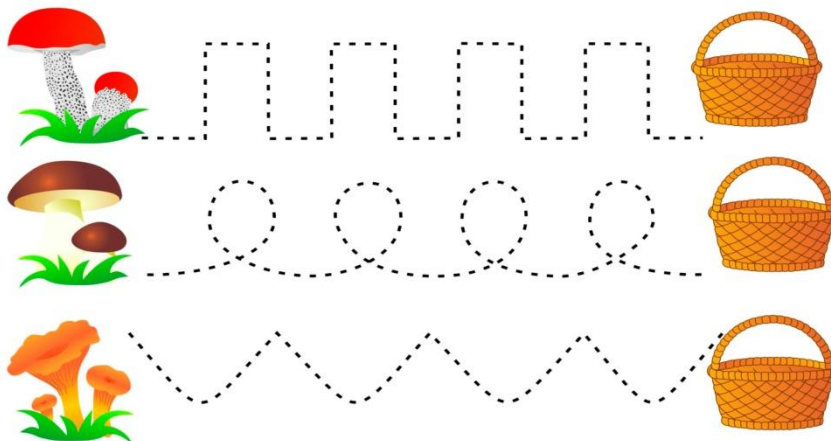
Р

И

1 2 3 4 5

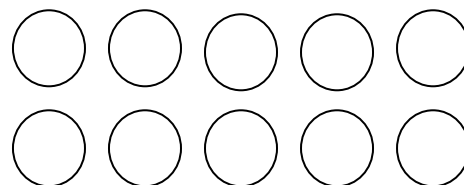
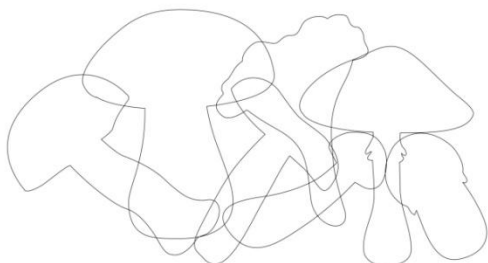
3

Собери грибы в корзину.



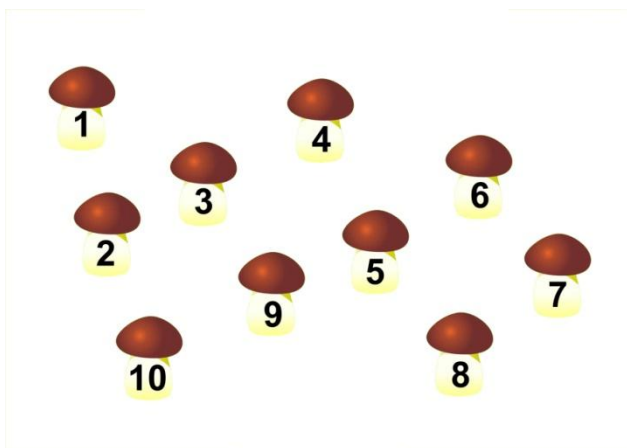
4

Сколько грибов на рисунке? Раскрась столько же кружочков.



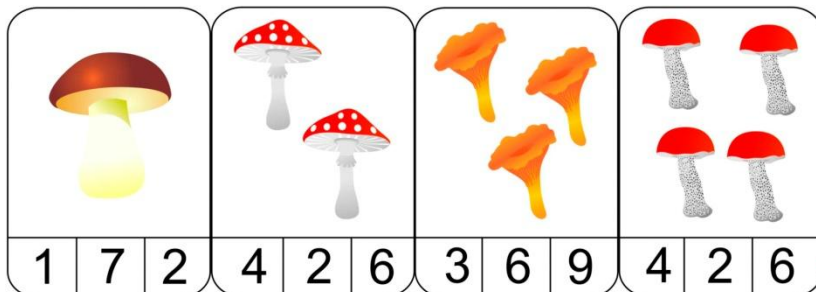
5

Соедини грибы по порядку (от 1 до 10).




6

Сосчитай, сколько грибов на картинке, обведи нужную цифру.



7

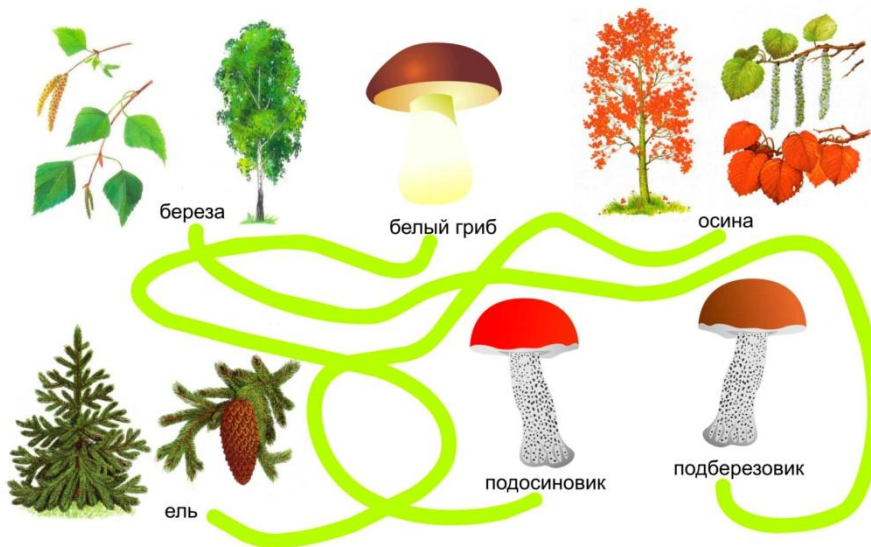
Рассортируй грибы по размеру.



Большие	Средние	Маленькие
№	№	№

8

Пройди по лабиринту и узнай, под каким деревом какой гриб растет.



1. Береза	А. Подосиновик
2. Ель	Б. Подберезовик
3. Осина	В. Белый гриб

Ответ: 1- ,2- ,3- .

9

Реши задачу.

На полянке у дубка
Крот увидел три грибка.
А подальше, у осин,
Он нашел еще один.
Кто ответить нам готов,
Сколько крот нашел грибов?

Ответ:

10


Склей грибок. (Для того чтобы выполнить последнее задание, тебе понадобятся ножницы и клей).



5



1



3



2

